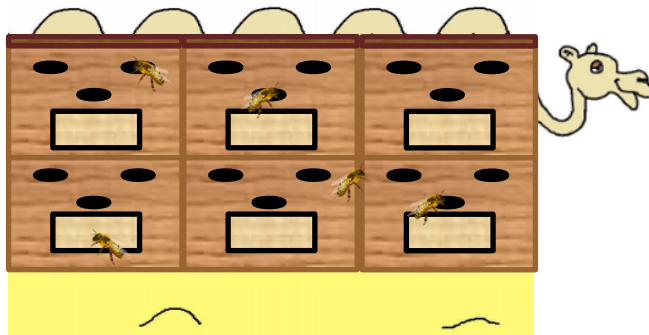



ÉNIGME 2

On voit 5 bosses au-dessus des ruches.  
Combien y a-t-il de chameaux ?  
Et de dromadaires ?  
Trouve les 2 solutions.



D'après une proposition de l'Académie de Caen

Solution 1

chameaux


dromadaires

Solution 2

chameaux

dromadaires

Choisis la solution où  
il y a le plus grand nombre de chameaux.  
Ce nombre de chameaux est le code de l'énigme 2.



Vérifie ici